

Opgave 6 – Zuidoost-Azië: Demografische ontwikkelingen in een aantal landen in Zuidoost-Azië

Bestudeer bron 1 uit het bronnenboekje die bij deze opgave hoort.

Gebruik bron 1.

De bevolkingsdiagrammen aangegeven met de cijfers 1 tot en met 4 zijn, in alfabetische volgorde, van de landen Laos, Singapore, Thailand en Vietnam.

- 2p **22** Neem de cijfers 1 tot en met 4 over op je antwoordblad.
Schrijf achter elk cijfer de naam van het juiste land.

Gebruik bron 1.

De onderstaande uitspraken worden gedaan op basis van de bevolkingsdiagrammen van Indonesië en de Filipijnen in 2005.

- 1 In Indonesië was in 2005 het geboortecijfer al langer aan het dalen dan in de Filipijnen.
- 2 In 2005 was de demografische transitie in Indonesië en de Filipijnen voltooid.

- 1p **23** Neem de cijfers 1 en 2 over op je antwoordblad.
Zet achter elk cijfer of de betreffende uitspraak juist of onjuist is.

Gebruik bron 1.

De verandering in leeftijdsopbouw die tussen circa 1995 en 2005 heeft plaatsgevonden, is voor de meeste landen in bron 1 gunstig geweest voor de groei van het bnp.

- 2p **24** Beredeneer waarom dit gunstig is geweest.

Gebruik bron 1.

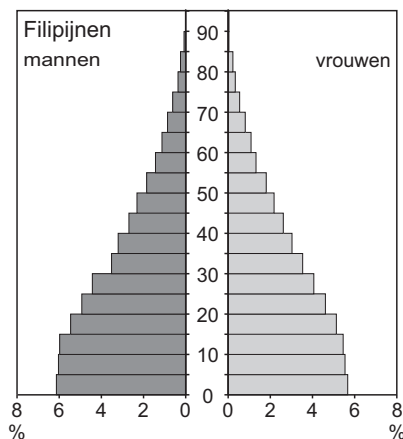
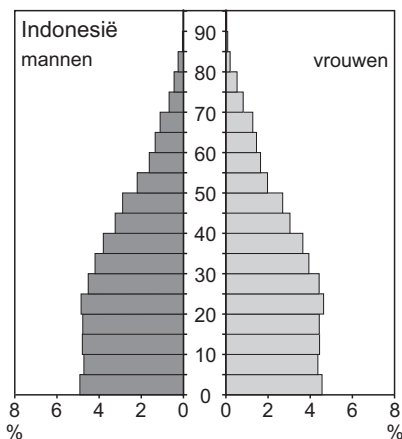
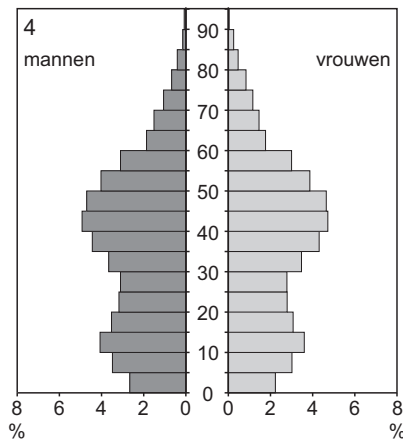
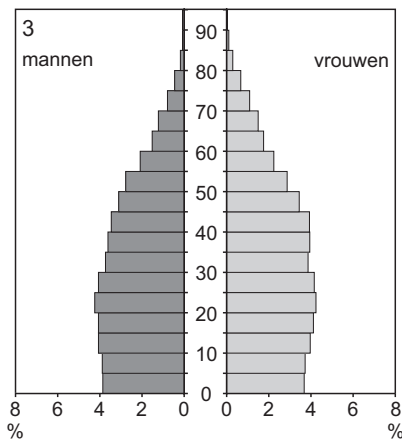
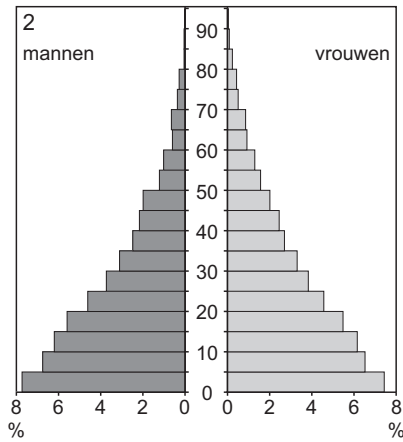
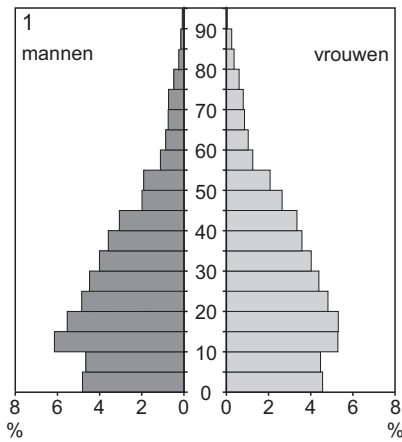
Een van de bevolkingsdiagrammen in bron 1 toont een bevolkingsopbouw die op korte termijn de economische groei zou kunnen afremmen.

- 3p **25** Geef het cijfer van dit bevolkingsdiagram.
Geef twee maatregelen die het betreffende land kan nemen om te voorkomen dat de bevolkingsopbouw de economische groei afremt.

Opgave 6 – Zuidoost-Azië: Demografische ontwikkelingen in een aantal landen in Zuidoost-Azië

bron 1

Leeftijdsopbouw van een aantal landen in Zuidoost-Azië in 2005



vrij naar: Westerman, Diercke Regionalatlas Südostasien, Braunschweig 2010

Bronvermelding

Een opsomming van de in dit examen gebruikte bronnen, zoals teksten en afbeeldingen, is te vinden in het bij dit examen behorende correctievoorschrift, dat na afloop van het examen wordt gepubliceerd.